



1. Aşağıda beşerî ve ekonomik coğrafyanın inceleme alanında yer alan dört coğrafi özellik verilmiştir.

- Karasal iklim bölgelerinin kırsal alanlarında yapı malzemesi olarak kerpiç kullanılması
- Sulamanın yaygınlaştığı alanlarda nadas alanlarının azalması
- Akarsuların akış hızının fazla olduğu alanlarda hidroelektrik santrallerinin kurulması
- Petrol ve doğal gazın taşınmasında boru hatları kullanımının yaygınlaşması

Buna göre verilenlerde, aşağıdakilerden hangisinin inceleme alanına ait bilgi yer almamaktadır?

- A) Enerji coğrafyası
- B) Tarım coğrafyası
- C) Maden coğrafyası
- D) Yerleşme coğrafyası
- E) Ulaşım coğrafyası



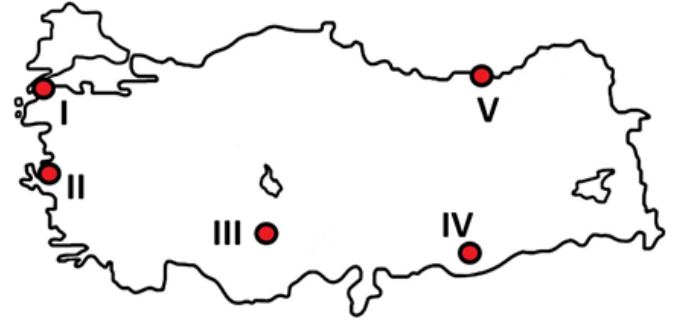
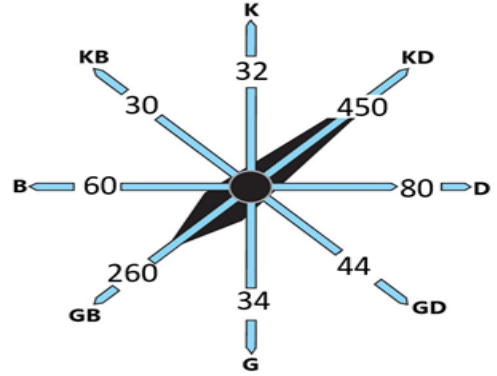
2. Aşağıda A ve B merkezleri ilgili olarak bazı bilgiler verilmiştir.

- A merkezinde dağların yılın bazı dönemlerinde güney yamacı, bazı dönemlerinde ise kuzey yamacı güneş ışınlarını daha dik alır.
- B merkezinde yıl içinde dört mevsim şartları belirgin olarak yaşanırken, 21 Haziran yaz başlangıcıdır.

Buna göre bu merkezlerin konumu ile ilgili aşağıdaki yargılardan hangisi kesinlikle doğrudur?

- A) A merkezi daha kuzeydedir.
- B) A merkezi Ekvatora daha yakındır.
- C) B merkezi Ekvator ile Yengeç Dönencesi arasındadır.
- D) B merkezi Kuzey Kutup Dairesi üzerindedir.
- E) Her iki merkez de orta kuşakta bulunur.

3. Bir alanın yakın çevresindeki yer şekillerinin uzanış doğrultusu, o alanda etkili olan rüzgarların yönünü belirleyen önemli etkenlerdendir.

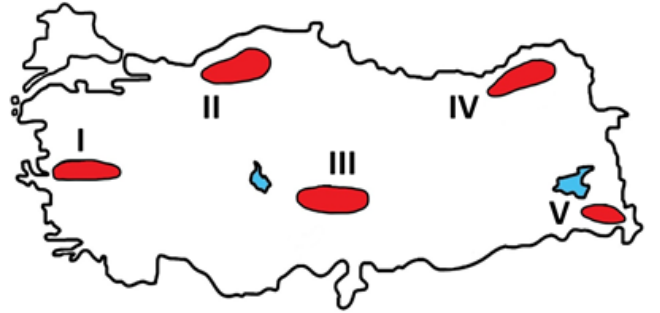


Buna göre, yukarıda verilen rüzgâr frekans gülü, haritada işaretli noktalardan hangisine ait olabilir?

- A) I
- B) II
- C) III
- D) IV
- E) V

OGM  
MATERYAL

4. Aşağıdaki haritada bazı alanlar numaralandırılarak gösterilmiştir.



Bu alanlarda yaygın olan yer şekilleri ve oluşumları ile ilgili olarak aşağıda verilenlerden hangisi yanlıştır?

- A) I numaralı alanda tabakaların kırılması ile oluşan horst ve grabenler yer alır.
- B) II numaralı alanda rüzgarların oluşturduğu mantar kaya ve tafoniler bulunur.
- C) III numaralı alanda sel rejimli akarsuların aşındırılması ile oluşan peribacaları yer alır.
- D) IV numaralı alanda buzul aşındırması ile oluşan sirk göllerine rastlanır.
- E) V numaralı alanda orojenez ile oluşan kıvrım dağlar bulunur.





5. Türkiye'deki göç hareketlerine bakıldığında, kırdan kente göç olgusunun 1950'li yıllarda yoğunlaşmaya başladığı, bu yoğunluğun 1980 sonrasında ve 2000'li yıllarda da devam ettiği görülmektedir. Bu durum kırsal alanda meydana gelen pek çok mekânsal sorunu da beraberinde getirmiştir.

**Aşağıdakilerden hangisi bu sorunlar arasında gösterilemez?**

- A) Nüfus artış hızının yavaşlayarak belirli bir süre sonra durma noktasına gelmesi
- B) Boş kalan tarım alanlarının erozyona maruz kalarak verimsizleşmesi
- C) Boşalan ev ve eklentilerinin zamanla harabeye dönmesi
- D) Kamu yatırımlarının kullanılamaz hâle gelmesi
- E) Gecekondulaşma ve çarpık kentleşmenin artması

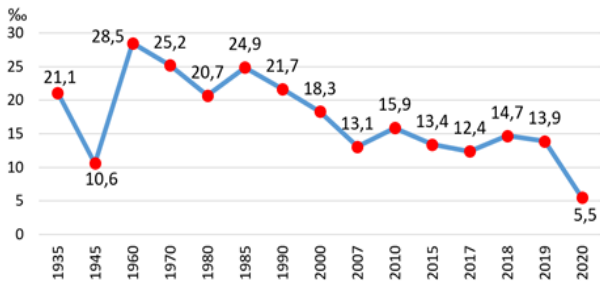
7. Aşağıdaki haritada bir afetin dünya üzerindeki risk dağılışı gösterilmiştir.



**Risk dağılışı verilen afet aşağıdakilerden hangisidir?**

- A) Tsunami
- B) Deprem
- C) Sel
- D) Heyelan
- E) Volkanik patlama

6. Aşağıdaki grafikte Türkiye'nin bazı yıllardaki nüfus artış hızı verilmiştir.



**Buna göre, aşağıdakilerden hangisine grafikteki bilgilerle kesin olarak ulaşılabilir?**

- A) 1945 ile 1960 yılları arasında nüfus artış hızı artmış ancak nüfus azalmıştır.
- B) 1960 ile 1980 yılları arasında toplam nüfus yaklaşık 8 milyon azalmıştır.
- C) 1985 yılından sonra nüfus hızlı bir şekilde azalmıştır.
- D) 2018 ile 2020 yılları arasında nüfus artış hızı azalırken nüfus artmıştır.
- E) Nüfusun ülke geneline dağılışı 2020 yılında daha düzenlidir.

**2017- YGS TYT**

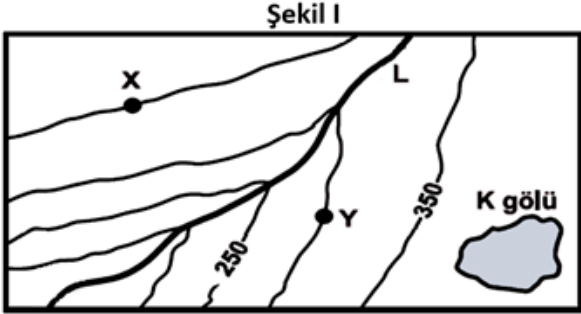
8. Aşağıdakilerden hangisi, yer şekillerinin tarım faaliyetleri üzerindeki sınırlayıcı etkisine örnek gösterilebilir?

- A) Kurak ve yarı kurak bölgelerde sulama olanaklarının az olması
- B) Yıl boyunca yağış alan bölgelerde bazı tahılların üretiminin zor olması
- C) Az gelişmiş ülkelerde gübre kullanımının yetersiz olması
- D) Engebeli alanlarda tarla yerine bahçe tarımının tercih edilmesi
- E) Gelişmiş ülkelerde sanayi bitkileri üretiminin yaygın olması

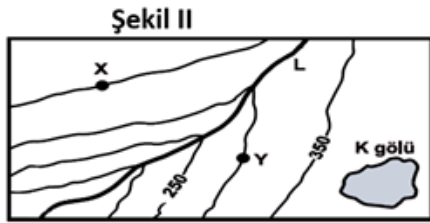


### 2011- LYS 3 AYT

9. Aşağıdaki I. şekilde çizgi ölçeği bulunmayan ve yalnızca kesir ölçeği verilen bir topoğrafya haritası, II. şekilde ise bu haritanın fotokopiyle belli bir oranda küçültülmüş hali verilmiştir.



1 / 100 000



1 / 100 000

II. şekildeki haritaya sahip olan ve bu haritanın fotokopiyle küçültüldüğünü bilmeyen bir kişi, aşağıdakilerden hangisini hesapladığında doğru sonuca ulaşabilir?

- A) K gölünün kapladığı alanı  
B) X ve Y noktaları arasındaki yükselti farkını  
C) L akarsuyunun aktığı vadinin ortalama eğimini  
D) X ve Y noktaları arasındaki kuş uçuşu uzaklığı  
E) L akarsuyunun gerçek uzunluğunu
10. Aşağıda Amazon Havzası'nın biyoçeşitliliği ile ilgili olarak bir şema verilmiştir.



Buna göre en üstten aşağıya, oklar yönünde doğru bilgiler takip edildiğinde aşağıdakilerden hangisine ulaşılır?

- A) Maki  
B) Çayır  
C) Yaprak döken  
D) Yıl boyu yeşil kalan  
E) Uzun boylu otlar

11. Son yıllarda turizm sektöründe yaygınlaşmaya başlayan ekoturizm, çevreyi ve yerel halkın refahını korumaya yönelik bir turizm faaliyeti olarak dikkat çekmektedir.

**Bu turizm faaliyetinin ortaya çıkmasında ve yaygınlaşmasında aşağıdakilerden hangisinin etkisi olmamıştır?**

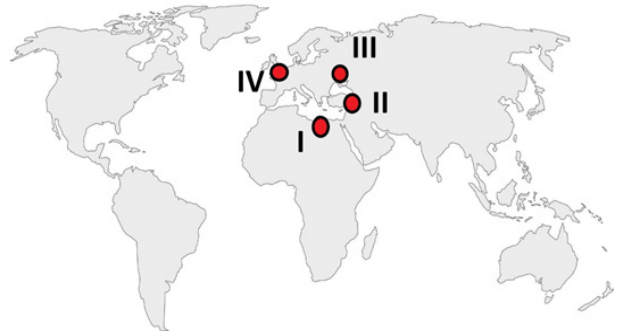
- A) Doğal miras alanlarındaki bozulmaları önlemek  
B) Kültürel varlıkların tanıtılmasını sağlamak  
C) Turizm faaliyetlerini yılın belirli dönemlerine toplamak  
D) Turizm faaliyetlerini sürdürülebilir hale getirmek  
E) Turizm faaliyetlerinin yerel halka olumlu etkisini arttırmak

12. Dünya'nın ortalama sıcaklığı 15°C kadardır. Bu sıcaklık, küresel iklim değişikliği ve fosil yakıtların kullanımı sonucu atmosfere daha fazla sera gazı karışmasıyla son yüzyılda ciddi anlamda artmıştır. Küresel iklim değişikliğinin tarım, orman, bitki örtüsü, tatlı su kaynakları, deniz seviyesi, insan sağlığı ve biyoçeşitlilik üzerinde önemli etkileri vardır.

**Bu etkiler arasında aşağıdakilerden hangisi gösterilemez?**

- A) Salgın hastalıkların artması  
B) Jeolojik afetlerin artması  
C) Canlı tür ve sayısının azalması  
D) Orman yangınlarının artması  
E) Buzulların erimesi

13. Dünyada petrol ve doğal gaz çoğunlukla tankerler ve boru hatları yoluyla taşınmaktadır. Özellikle doğal gazın boru hatları ile taşınması dünya üzerindeki bazı alanların enerji koridoru özelliği kazanmasında ve jeopolitik öneminin artmasında etkili olmuştur.



**Yukarıda anlatılan duruma haritadaki işaretli alanlardan hangileri daha fazla örnek oluşturur?**

- A) I ve II  
B) I ve III  
C) II ve III  
D) II ve IV  
E) III ve IV



14. Aşağıda günümüzde sıcak çatışmaların yaşandığı dört alana ait bilgi verilmiştir.

- Çin'in kuzeybatısında yer alan zengin doğal kaynaklara sahip alanda Çin'in haksız işgali ile sorunlar ortaya çıkmıştır.
- 2011 yılında meydana gelen ayaklanma sonucunda ortaya çıkan sorunun en önemli sebebi Aden Körfezi'nin kontrolüdür.
- 1948 yılında İsrail Devleti'nin kurulması ve yayılcı politika izlemesi günümüze kadar süren çatışmalara neden olmaktadır.
- 2003 yılında ABD'nin işgali günümüze kadar devam eden çatışmaları beraberinde getirmiştir.

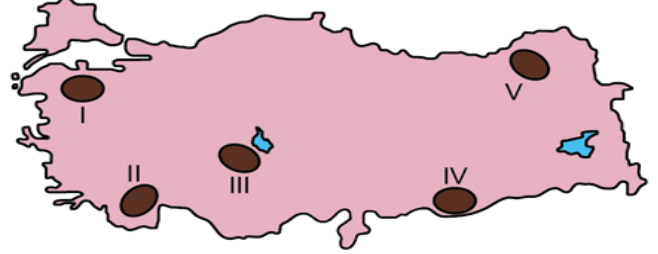
**Buna göre verilenlerde, aşağıdaki sıcak çatışma alanlarından hangisine ait bilgi bulunmamaktadır?**

- A) Irak
- B) Filistin
- C) Suriye
- D) Doğu Türkistan
- E) Yemen



2018-AYT/Sosyal Bilimler-1

15. Aşağıdaki haritada bazı alanlar numaralandırılarak koyu



**Bu alanların hangilerinde arazinin dağlık ve engebeli olması tarlaların yapılmasını daha fazla kısıtlamaktadır?**

- A) I ve II
- B) II ve III
- C) III ve IV
- D) II ve V
- E) IV ve V



SORU NO	CEVAP ANAHTARI
1.	C
2.	B
3.	A
4.	B
5.	E
6.	D
7.	A
8.	D
9.	B
10.	D
11.	C
12.	B
13.	C
14.	C
15.	D